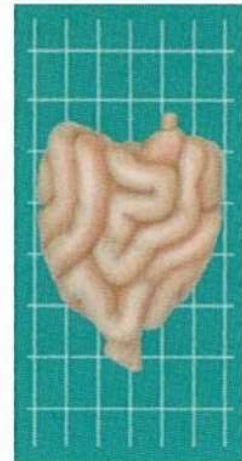


Vraag 2. Hoe lang is het gemiddelde darmtraject van een volwassen kat?

- A. circa 200 cm
- B. circa 130cm
- C. circa 85 cm



Dierenartsen Dier en Dongen

Vraag 1. Waar heeft deze kat last van?

- A. Galsteen
- B. Misschien wel helemaal niets...
- C. Blaassteen
- D. Ingeslikt 'vreemd voorwerp'



Dierenartsen Dier en Dongen


Vraag 4. Dit is niet de schedel van een kat, maar van een:



A. Hagedis



B. Rat



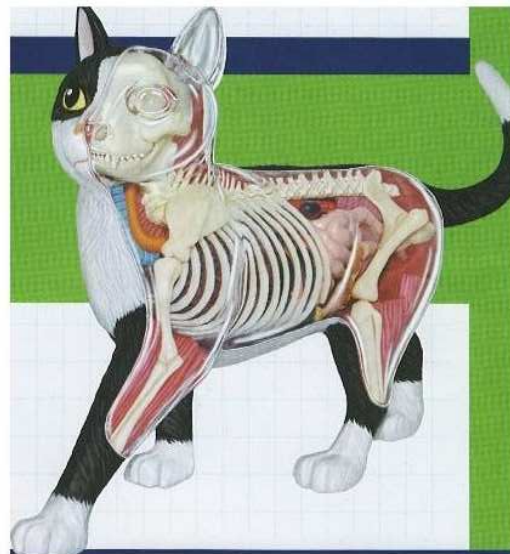
C. Konijn



Dierenartsen Dier en Dongen

Vraag 3 Deze kat is:

- A. een mannetje,
- B. een vrouwtje, niet drachtig,
- C. een vrouwtje, wel drachtig.



Dierenartsen Dier en Dongen

Familie Pietersen, Janssen en Van Dongen zijn burens en hebben allen een beertje uit hetzelfde nestje. Het is vakantie en de bieren mogen naar het pension. Vlak voordat ze naar het pension gebracht worden zijn ze alle drie 'ontsnapt'. Gelukkig zijn ze weer gevonden en kunnen naar het pension, maar... beer van familie Janssen moet elke dag een tablet krijgen.

Omschrijving beertjes:

- Fam. Pietersen: Is lief, heet Joppie, bruin, vrouwtje, ongeveer 15cm hoog, draagt soms een rode Hoodie
- Fam. Janssen: Luistert naar de naam Lola, is speels, draagt een Hoodie (vaak rood), chipnummer 528210002933856, vrouwtje, ongeveer 15 cm hoog
- Fam. Van Dongen: Luistert naar de naam Kate, is bruin, ondeugend, vrouwtje, draagt een Hoodie (meestal blauw), circa 15 cm hoog

Vraag 6: Welke beer moet dagelijks een tablet krijgen?

Beer A, B of C?



Dierenartsen Dier en Dongen

**Vraag 5: U vindt 5 vlooien op uw kat.
De vlooienbesmetting in de omgeving
(incl. eitjes, larven, poppen) bedraagt:**

- A. Gemiddeld 35 vlooien
- B. Gemiddeld 65 vlooien
- C. Gemiddeld 95 vlooien



Dierenartsen Dier en Dongen